



تست هوش


IQ

افزایش پھر هوش
پتر شفرد - حمید رضا بلوچ


فهرست مطالب

- بخش اول: هوش تصویری ۵
- پاسخنامه بخش اول: هوش تصویری ۸۵
- بخش دوم: معمای اعداد ۱۰۱
- پاسخنامه بخش دوم: معمای اعداد ۱۳۵
- بخش سوم: معمای حروف ۱۶۱
- پاسخنامه بخش سوم: معمای حروف ۱۹۲

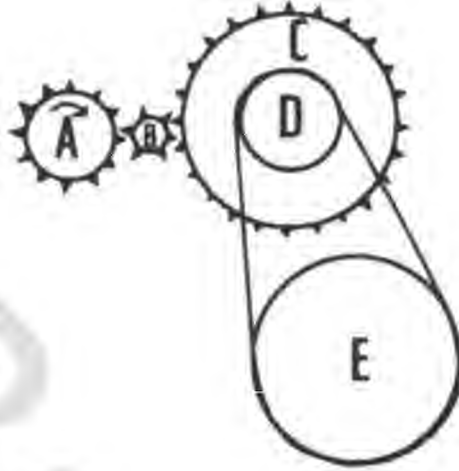
۱- کدام شکل با بقیه شکل‌ها تفاوت دارد؟



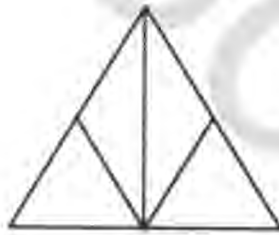
۲- کدام یک از توپ‌های مشکی به توپ سفید وسط نزدیکتر و کدام یک دورتر از آن می‌باشد؟



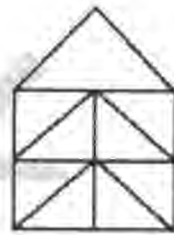
۳- قطر قرقره (E) دو برابر قرقره (D) می باشد. اگر چرخ دنده (A) هشت بار در جهت عقربه های ساعت بچرخد، قرقره ی E چند بار می چرخد و به کدام جهت؟



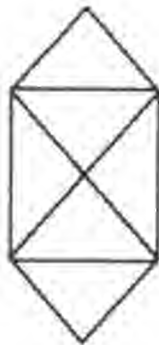
۴- کدام یک از اشکال زیر دارای بیشترین تعداد مثلث می باشد؟



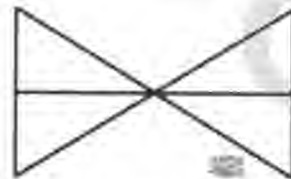
A



B

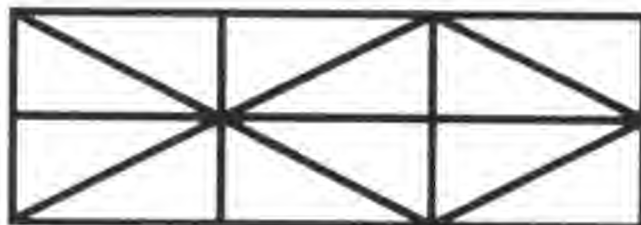


C

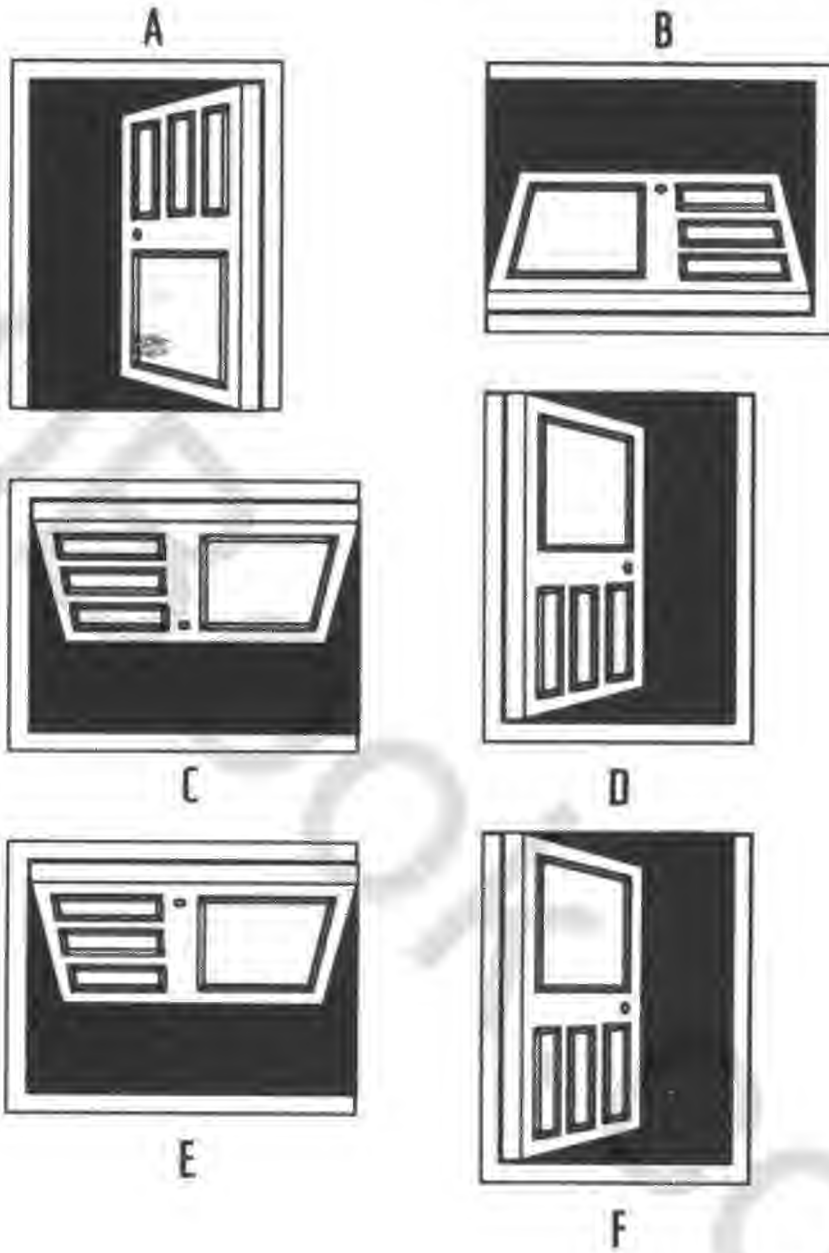


D


۵- چه تعداد مثلث در شکل زیر وجود دارد؟



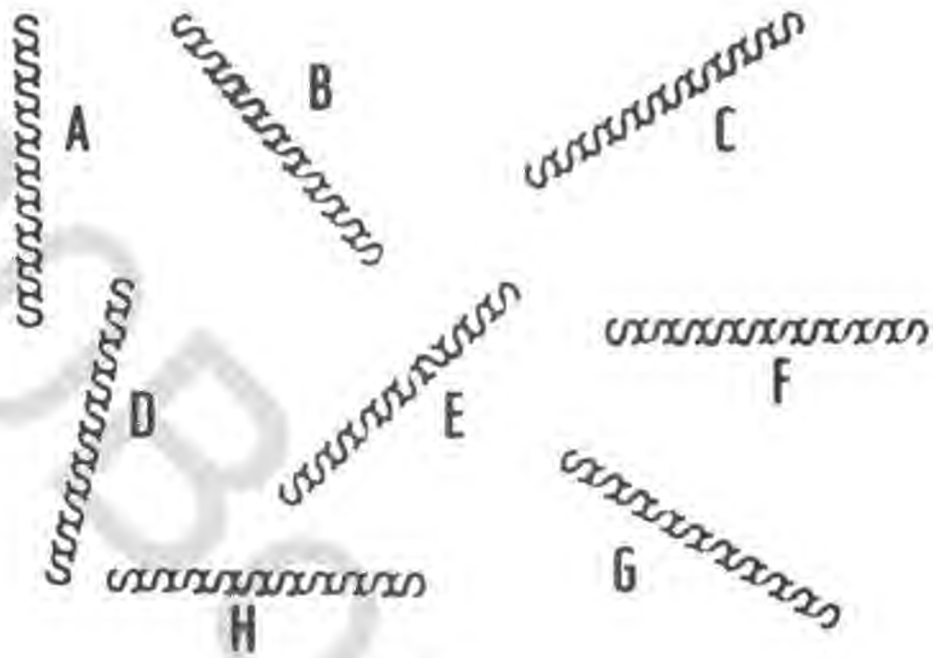
۶- کدام یک از درهای زیر مورد اشتباهی دارد؟



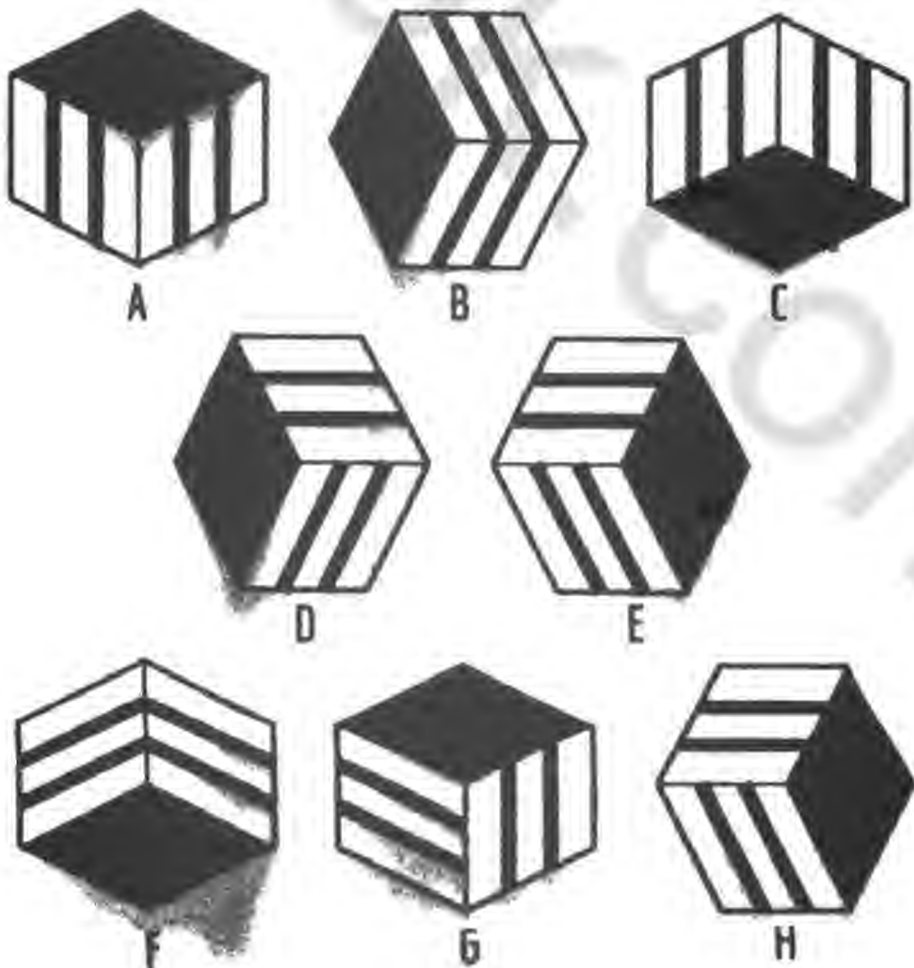
۷- چه تعداد مربع در این جا وجود دارد؟



۸- کدام شکل با دیگر اشکال تفاوت دارد؟



۹- مکعب‌های زیر را به چهار جفت مکعب نظیر هم مرتب کنید؟



۱۰- کدام یک از ساعت‌های زیر با بقیه فرق دارد؟



A



B



C



D

۱۱- کدام یک با بقیه فرق دارد؟



A

B

C

D

E



F

G

H

I

J



K

L

M

N

O



نشر ليدا